

1 次の文を読み、下の各問いに答えなさい。

- A 東日本大震災では、地震や津波、(1)福島第一原子力発電所の事故などにより、東北地方や(2)関東地方の太平洋側などに多くの被害がもたらされました。住居だけでなく、(3)農地や交通網をどのように再建していくか、震災から6年近くがたつ現在も、復興には多くの課題が残っています。
- B 日本の国土は、全体として降水量が多くなっています。2015年9月には、関東地方でおきた豪雨で鬼怒川などの堤防が決壊し、周辺の地域に(4)水害をもたらしました。また、(5)北海道や(6)北陸地方をはじめとする(7)雪の多い地域では、生活や産業上の困難が生じることがあります。
- C 国土が山がちな日本では、火山の噴火がたびたびおきています。(8)富士山もふくめ、日本には現在、100以上の活火山があります。
- D 世界では、さまざまな環境問題がおきています。(9)森林面積の減少、温室効果ガスの排出による(10)地球温暖化などがその例です。(11)世界の人口が増えていくなかで、人々が生活できる場所を確保するためにも、各国が協力して対策に取り組む必要があります。

問1 下線(1)に関連して、1986年にはチェルノブイリで原子力発電所の事故が発生し、多くの人々が住居を失いました。チェルノブイリのあるウクライナは、1991年に解体したある国の一部でした。ある国とはどこですか。国名を答えなさい。

問2 下線(2)に関連して、①・②の各問いに答えなさい。

- ① 下の表は、東京都・埼玉県・千葉県・茨城県の第二次産業従事者率(2012年)・農業産出額(2013年)・100世帯あたり乗用車保有台数(2014年)を示したものです。このうち、埼玉県を示しているものはどれですか。表中のA～Eから選び、記号で答えなさい。

| 都道府県 | 第二次産業従事者率 | 農業産出額 | 100世帯あたり乗用車保有台数 |
|------|-----------|--------|-----------------|
| A | 30.5% | 4356億円 | 161.3台 |
| I | 21.2% | 4141億円 | 100.7台 |
| U | 25.9% | 2012億円 | 100.7台 |
| E | 18.1% | 293億円 | 46.3台 |

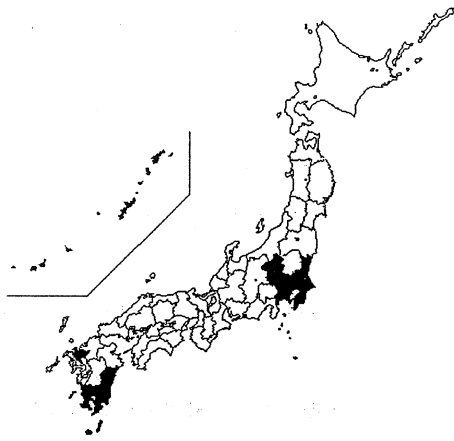
※『データでみる県勢 2016年版』より作成

- ② 下のA～オのうち、関東平野のおもな川の周辺で生産がさかんな農産物としてもっともふさわしいものはどれですか。記号で答えなさい。

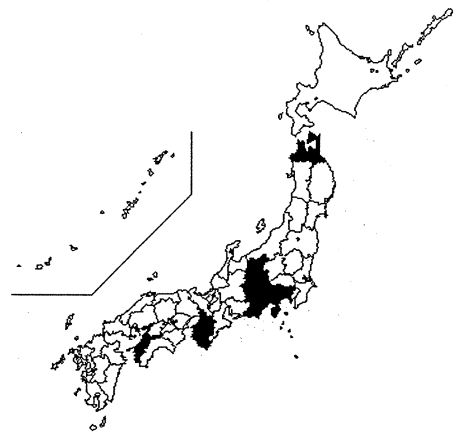
A 米 I 小麦 U ぶどう E みかん O 茶

問3 下線(3)について、下のア～エの図は、各都道府県の耕地面積に占める田・普通畑・樹園地・牧草地のいずれかの比率が高い 10 都道府県を示したものです。このうち、普通畑を示しているものはどれですか。記号で答えなさい。

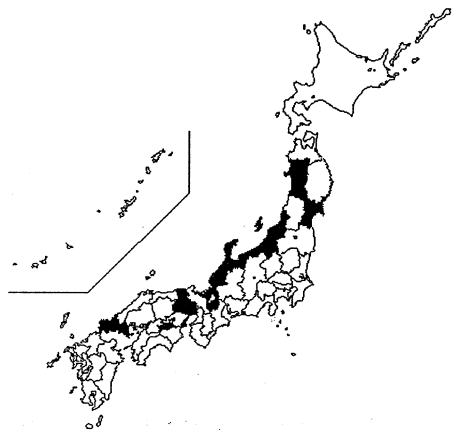
ア



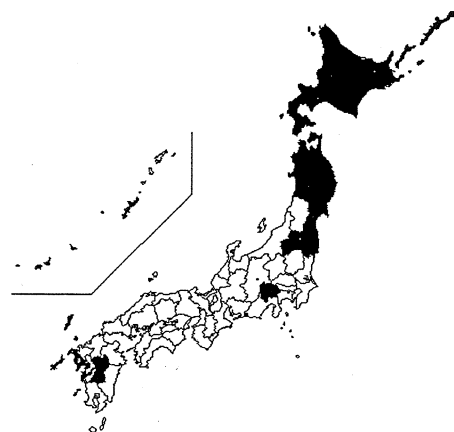
イ



ウ



エ



※『データでみる県勢 2016年版』より作成

問4 下線(4)に関連して、木曾川・長良川などの合流する地域では、水害を防ぐため、輪中とよばれる堤防に囲まれた場所で生活が営まれてきました。この場所がふくまれる平野の名を漢字で答えなさい。

問5 下線(5)に関連して、上川盆地に位置する、北海道で人口第2位の都市はどこですか。都市名を漢字で答えなさい。

問6 下線(6)に関連して、①・②の各問いに答えなさい。

① 2015年には北陸新幹線が開通しました。下のア～オのうち、現在、北陸新幹線が開業していない県はどれですか。一つ選び、記号で答えなさい。

ア 石川県 イ 福井県 ウ 長野県 エ 新潟県 オ 富山県

② 下のア～オのうち、北陸地方にふくまれる地域で生産がさかんな伝統工芸品として正しいものはどれですか。一つ選び、記号で答えなさい。

ア 天童将棋駒 イ 南部鉄器 ウ 西陣織 エ 益子焼 オ 輪島塗

問7 下線(7)について、日本国内で雪の多い地域は日本海側に集中しています。

この理由を「季節風」・「山脈」の語を必ず用いて説明しなさい。なお、風向きがわかるように答えること。

問8 下線(8)について、富士山はある二つの県にまたがっています。二つの県とはどこですか。県名を漢字で答えなさい。

問9 下線(9)に関連して、次のア～エの図のうち、森林面積の減少が深刻な国々を示したものはどれですか。もっともふさわしいものを選び、記号で答えなさい。

ア



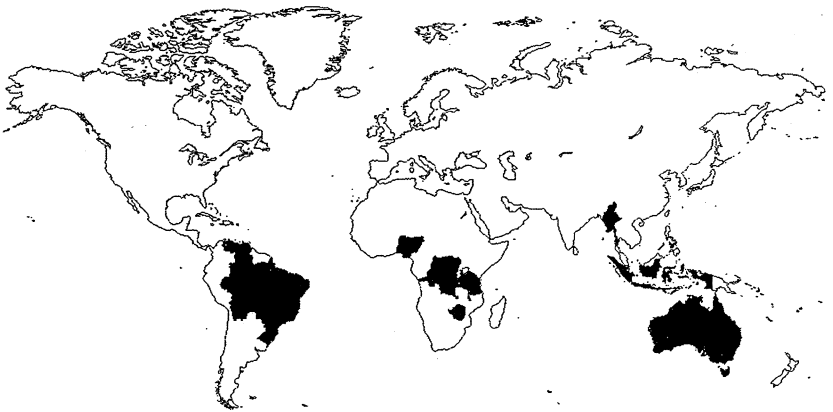
イ



ウ



エ



問10 下線(10)に関連して、2015年には京都議定書にかわり、パリ協定が結ばれました。下のア～エのうち、この内容の説明として正しいものはどれですか。一つ選び、記号で答えなさい。

ア この協定はイギリスの首都で結ばれた。

イ この協定に参加するすべての国が、温室効果ガス排出量の削減目標を設定することになった。

ウ この協定に中華人民共和国は参加していない。

エ 2050年までの地球の気温上昇幅を、2000年と比べて3℃以内に抑えることが目指されている。

問11 下線(11)について、①・②の各問いに答えなさい。

① 下のア～オのうち、世界の総人口(2015年)にもっとも近いものはどれですか。記号で答えなさい。

ア 33億人 イ 53億人 ウ 73億人 エ 93億人 オ 113億人

② 世界で2番目に人口の多い、南アジアにある国の名を答えなさい。