

3

図1, 図2, 図3は点Oを中心とする半径10 cmの半円(AKは直径)で, 点Bから順に点Jまでの9点は, 半円の円周部分を10等分する点です。
次の各問いに答えなさい。

- (1) 図1の網目部分の面積は何 cm^2 ですか。

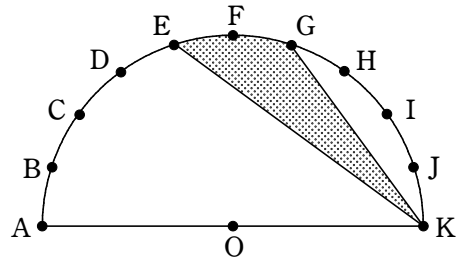


図1

- (2) 図2の網目部分の面積の和は何 cm^2 ですか。

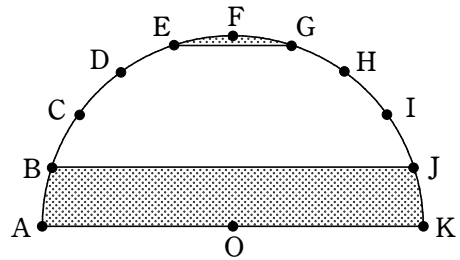


図2

- (3) 図3の網目部分の面積の和は何 cm^2 ですか。

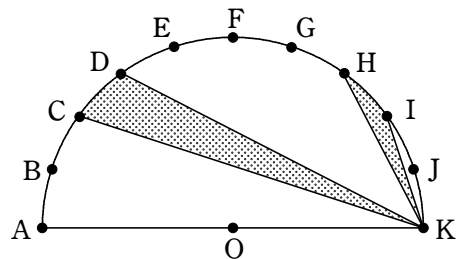


図3